

13

第一次世界大戦と日本(2)

学習1 大正デモクラシーと政党内閣の成立

- 1911年、立憲政友会の西園寺公望が内閣を組織しました。1912年に明治天皇が亡くなり、大正天皇が即位しました。
- 陸軍や藩閥に支持された桂太郎内閣が成立すると、憲法に基づき政党による政治を守ろうとする運動が広まりました(第一次護憲運動)。そして桂内閣は総辞職に追い込まれました(大正政変)。
- 護憲運動や民本主義などの思想が広まり、世界的な民主主義の風潮を受けて、日本の社会に民主主義が浸透していきました。この時代の風潮は、のちに大正デモクラシーと呼ばれました。

note デモクラシーの思想

- ・吉野作造…民本主義をとえ、政党政治の確立を主張する。
- ・美濃部達吉…天皇機関説をとえ、主権は国民にあると説く。

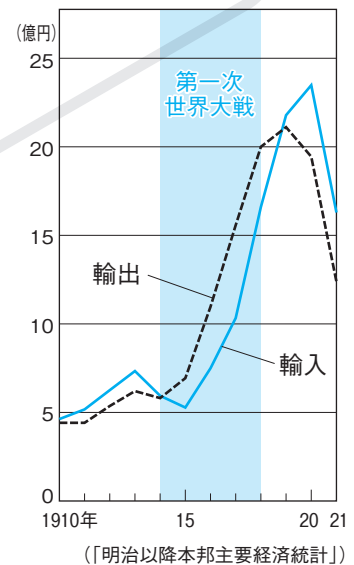
- 第一次世界大戦中、連合国やアメリカへの工業製品の輸出が大幅に増え、日本の経済はかつてない好景気となりました(大戦景気)。
- 好景気により成金とよばれる金持ちが増え、三井・三菱などの財閥がさらに力をつけました。一方で、好景気は物価の上昇をまねいたため、民衆の生活は苦しくなっていました。
- シベリア出兵を見越した米の買い占めにより、米の値段が急激に上がると、富山県の漁村の主婦が米の安売りを求めて米屋におしかけました。この騒ぎが新聞で報道されると、たちまち全国に広がり、民衆は米屋や金貸し、大商店などを襲いました(米騒動)。
- 寺内正毅内閣は、軍隊を出動させて鎮圧にあたりましたが、騒動の責任を負って総辞職しました。
- 米騒動で内閣がたおれると、立憲政友会の原敬が首相となり、内閣を組織しました。原内閣は、閣僚の大部分を衆議院の第一党である立憲政友会の党員が占める、初の本格的な政党内閣でした。

学習2 社会運動の高まりと普通選挙法の制定

- 大戦景気の反動で不景気になると、労働運動や農民運動、女性運動などの社会運動が活発になりました。
- 労働者の地位向上を目指してつくられた友愛会が労働組合の全国的な組織となり、労働争議を指導するようになりました。1920年には日本で最初のメーデーが行われました。
- 農村では、小作人が地主に小作料の引き下げなどを求めて小作争議を起こしました。1922年には農民や小作人の権利を守る日本農

時代	年	できごと	中国
大正時代	1912	桂太郎内閣ができる 第一次護憲運動	中 華 民 国
	1913	桂太郎内閣が倒れる	
	1918	米騒動が起こる	
	1920	原敬内閣ができる 新婦人協会が設立	
	1922	日本最初のメーデーが行われる 全国水平社が結成	
		日本共産党が結成 日本農民組合ができる	
	1923	関東大震災が起こる	
	1924	加藤高明内閣ができる	
	1925	普通選挙法を制定 治安維持法を制定 ラジオ放送が始まる	

▼大正時代の貿易



▼米騒動

著作権者への配慮から、掲載を差し控えております。実際の教材には掲載されておりますのでご安心ください。

民組合もできました。

□社会運動が高まるなかで、**日本共産党**がひそかに結成されました。

□女性差別を解消し、地位を高めようとする運動が盛んになり、**平塚らいてう**(明)らが**青鞥社**を結成し、女性の解放を唱えました。

□「解放令」が出されたあとも、部落差別はなくなりませんでした。差別に苦しんでいた人々は、1922年に**全国水平社**を結成し、自由と平等を求める運動を進めました。

□1923年9月1日、**関東大震災**が起こり、東京・横浜などの人口密集地は壊滅状態となりました。

□1924年、総選挙で護憲を主張する政党が勝利をえて、憲政会(のちの立憲民政党)を中心とする**加藤高明内閣**が成立しました。

note 加藤高明内閣による法律(1925年)

- ・ **普通選挙法**…納税額にかかわらず、満25歳以上のすべての男子に衆議院議員の選挙権を与える。
- ・ **治安維持法**…天皇を中心とする国の組織を廃止しようとし、私有財産制を廃止しようとする運動を厳しく取り締まる。

□普通選挙法によって有権者は増加し、政治に国民の声が反映されるようになりました。しかし、治安維持法は改定により、罰則が強化され、社会運動の取りしまりに利用されました。

学習3 文化・宗教・生活

□大正時代には、工場労働者や役所・会社に勤めて給料をもらう給与生活者(サラリーマン)が増え、タイピストや電話交換手に就く女性も現れ、**職業婦人**とよばれました。都市の人口が急増し、洋間のある**文化住宅**も広まりました。

□一般の人々(大衆)を担い手とする**大衆文化**が広まり、1冊1円の文学全集(**円本**)や文庫本が出版されるようになりました。

□新聞の発行部数も急速に増え、**ラジオ放送**が始まり、マス＝メディアが発達しました。また、映画や歌謡曲、野球などのスポーツが大衆の娯楽として定着していきました。

□学問では、西田幾多郎が独自の哲学を打ち立てました。柳田国男は各地に伝わる伝承などを記録して、民俗学を提唱しました。また、民芸運動などを起こした柳宗悦などの研究者も活躍しました。

□文学では、谷崎潤一郎や**芥川龍之介**、白樺派の志賀直哉らの作品が人々に読まれました。また、労働者や農民の視点で社会問題を描く、**小林多喜二**の『蟹工船』に代表される**プロレタリア文学**も生まれました。

▼原敬

著作権者への配慮から、掲載を差し控えております。実際の教材には掲載されておりますのでご安心ください。

▼有権者数の移り変わり

選挙法 成立年	有権者数(万人)			
	1000	2000	3000	4000
1889年	1.1%			
1900年	2.2%			
1919年	5.5%			
1925年		19.8%		
1945年				48.7%

(%で示した数値は全人口に占める割合)

▼治安維持法(1925<大正14>年)

第一条 国体を変革し、または私有財産制度を否認することを目的として結社を組織し、または情を知ってこれに加入した者は、10年以下の懲役または禁錮に処する。

第二条 前条の目的をもって、その実行に関し協議をした者は、7年以下の懲役または禁錮に処する。

▼『青鞥』の宣言

元始、女性は実に太陽であった。真正の人であった。今、女性は月である。…

▼全国水平社の宣言

全国に散在する部落の人々よ、団結せよ。ここにわれわれが人間を尊敬することによって、みずからを解放しようとする運動を起こしたのは当然である。われわれは、心から人生の熱と光を求めるものである。

水平社はこうして生まれた。
人の世に熱あれ、人間に光あれ。

▼関東大震災

著作権者への配慮から、掲載を差し控えております。実際の教材には掲載されておりますのでご安心ください。

確認問題

●一問一答● 次の問いに答えなさい。

- (1) 藩閥の桂太郎内閣が議会を無視する態度とったのに対し、政党政治家や新聞記者などの知識人が桂内閣を退陣させた運動を何というか。(1)
- (2) 大正時代におこった民主主義を求める風潮や運動を何というか。(2)
- (3) 吉野作造がとなえた、普通選挙によって民意を政治に反映させる考えを何というか。(4)は天皇機関説をとなえた。(3)
- (4) 天皇は国家の最高機関であり、憲法に従って統治を行うものとするという学説を説いたのはだれか。(4)
- (5) 第一次世界大戦中の好景気により、にわか金持ちになった人々を何というか。(5)
- (6) シベリア出兵による米価の急上昇をきっかけに、富山県の漁村の主婦たちから始まり、各地に広がった全国的な騒動を何というか。(6)
- (7) (6)の後、首相になり、内閣を組織した人物はだれか。(7)
閣僚の大部分を衆議院の第一党である立憲政友会の党員が占めた。
- (8) 議会で多数を占める政党の党員によって組織される内閣を何というか。(8)
初めて本格的な(8)ができたのは(7)のときである。
- (9) 労働者が団結して、労働条件の改善などを資本家に求めてストライキなどを起こすことを何というか。(9)
- (10) 農村で、小作人が地主に対して、高い小作料の引き下げや耕作権を要求する争議を何というか。(10)
- (11) 雑誌『青鞥』の編集・発刊において中心となり、女性の解放と自由恋愛を主張した人物はだれか。(11)
- (12) きびしい部落差別に苦しんだ人々が、人間としての平等を求めて結成した組織を何というか。(12)
- (13) 1923年に発生し、東京・横浜などの地域を壊滅状態にした災害を何というか。(13)
- (14) 第二次護憲運動のあとの1924年、護憲派の連立内閣がつくられたが、このときの内閣総理大臣はだれか。(14)
- (15) 1925年に成立した、満25歳以上のすべての男子に選挙権をあたえる法律を何というか。女性には選挙権はなかった。(15)
- (16) (15)と同時に成立し、社会主義運動をとりしめるために制定された法律を何というか。1928年、最高刑に死刑が導入された。(16)
- (17) バスの車掌やタイピスト・電話交換手などの女性たちを何とよんだか。(17)
- (18) 1925年に始まり、またたく間に全国に普及したメディアは何か。(18)
新聞の発行部数も増え、1冊1円の円本も出版された。
- (19) 『羅生門』、『くもの糸』、『鼻』などの知性的な短編で、人々に親しまれた文学者はだれか。(19)
- (20) 労働者や農民の貧困をえがいて社会に訴えた文学を何というか。(20)
小林多喜二の『蟹工船』などが知られる。

学習1

学習2

学習3

基本問題

1 右の資料を読んで、次の問いに答えなさい。

- (1) 資料Ⅰの法律を何というか。
- (2) 資料Ⅰと同時に実現された、選挙に関する新しい法律を何というか。
- (3) 資料Ⅰが取りしまった運動を、次のア～エから2つ選びなさい。
 ア 天皇中心の国のあり方を変える運動。
 イ 憲政擁護を主張する運動。
 ウ 軍隊を強化する運動。
 エ 私有財産制を否定する運動。
- (4) 資料Ⅱ中の()にあてはまる語句を、次のア～ウから選びなさい。
 ア 労働者 イ 農民 ウ 部落
- (5) 資料Ⅱを宣言した組織を何というか。
- (6) (5)が目指したことを、次のア～エから選びなさい。
 ア 部落差別からの解放を求める。
 イ 女性に対する差別をなくす。
 ウ 小作料の引き下げを求める。
 エ 労働者の権利を主張する。

資料Ⅰ

第一条 国体を変革し、または私有財産制度を否認することを目的として結社を組織し、または情を知ってこれに加入した者は、10年以下の懲役または禁錮に処する。

第二条 前条の目的をもって、その実行に関し協議をした者は、7年以下の懲役または禁錮に処する。

資料Ⅱ

全国に散在する()の人々よ、團結せよ。ここにわれわれが人間を尊敬することによって、自らを解放しようとする運動を起こしたのは当然である。われわれは、心から人生の熱と光を求めるものである。

水平社はこうして生まれた。

人の世に熱あれ、人間に光あれ。

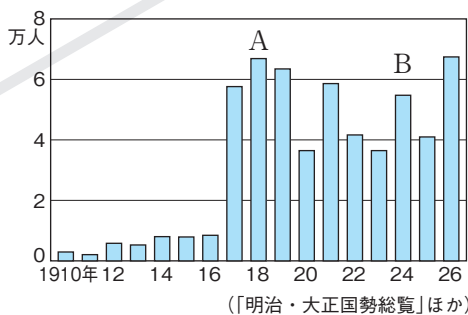
1

(1)
(2)
(3)
(4)
(5)
(6)

2 右のグラフを見て、次の問いに答えなさい。

- (1) 労働争議の増加とともに、農村では小作料の減免を要求する運動が活発になった。この運動を何というか。
- (2) グラフ中のAの時期に、あるできごとのために内閣がたおれることになった。あるできごととは何か。
- (3) (2)のあと、本格的な政党内閣を組織した人物はだれか。
- (4) グラフのBのときに起きた運動を何というか。

労働争議に加わった労働者の数



2

(1)
(2)
(3)
(4)

3 右の資料を見て、次の問いに答えなさい。

- (1) グラフの①、②のときの有権者の資格を、次のア～ウから選びなさい。
 ア 満20歳以上の男子
 イ 満25歳以上の男子
 ウ 直接国税15円以上を納める満25歳以上の男子
- (2) グラフの②のときの内閣総理大臣はだれか。

選挙法成立年	有権者数 (万人)
① 1889年	1.1%
1900年	2.2%
1919年	5.5%
② 1925年	19.8%
1945年	48.7%

(%で示した数値は全人口に占める割合)

3

(1)	①
	②
(2)	

練習問題

1 次の文を読んで、あとの問いに答えなさい。

1912年、^a桂内閣ができる^bと憲法に基づく議会中心の政治を求める運動が起こり、桂内閣は総辞職した。このころ、民衆の意見を反映した政治を求める運動が^c吉野作造らによって広められ、議会を中心とした政治の確立を求める世論が高まってきた。

- (1) 下線部^aの前の総理大臣はだれか。
- (2) 下線部^bを何というか。漢字4字で書きなさい。
- (3) 下線部^cが唱えた主張を何というか。
- (4) 「天皇は国家の最高機関として、憲法によって国を統治すべきである」という学説を主張した法学者はだれか。
- (5) この時代の民主主義を求める風潮を何というか。

1	(1)	
	(2)	
	(3)	主義
	(4)	
	(5)	

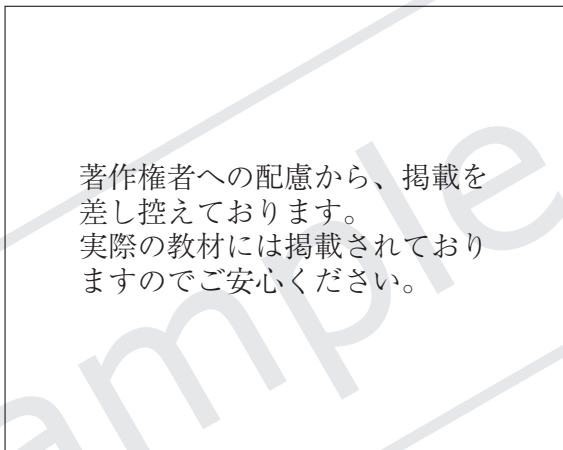
2 右の絵を見て、次の問いに答えなさい。

- (1) 1918年に、漁村の主婦らにより起こった運動が、全国的に広がり、右の絵のような騒動が各地で起こった。これを何というか。

- (2) (1)が最初に起こった県としてあてはまるものを、次のア～エから選びなさい。

ア 鹿児島県 イ 神奈川県
ウ 愛知県 エ 富山県

- (3) (1)が起こった原因として、次の㉠・㉡の文中の①・②にあてはまる語句を書きなさい。



- ㉠ 1914年に起きた第一次世界大戦により、工業製品の輸出が増え、(①)景気となったため、物価が上がった。

- ㉡ ロシア革命が起こり、(②)出兵を見こした商人が米を買い占めたため、米の価格が前年の2倍にまで上がった。

- (4) (1)の責任を負って総辞職した内閣の首相としてあてはまるものを、次のア～エから選びなさい。

ア 田中正造 イ 寺内正毅 ウ 黒田清隆 エ 山県有朋

- (5) (4)の内閣のあと、首相となった人物はだれか。

- (6) (5)の所属していた政党にあてはまるものを、次のア～エから選びなさい。

ア 自由党 イ 立憲改進黨 ウ 憲政党 エ 立憲政友会

- (7) (5)の内閣は本格的な政党内閣であった。政党内閣とはどういう首相が中心の内閣か。あてはまるものを、次のア～エから選びなさい。

ア 貴族院の多数派から選ばれた首相
イ 衆議院の多数派から選ばれた首相
ウ 枢密院により選ばれた軍人出身の首相
エ 天皇により選ばれた爵位をもった首相

2	(1)	
	(2)	
	(3)	景気
	(4)	出兵
	(5)	
	(6)	
	(7)	

③ 次の文を読んで、あとの問いに答えなさい。

第一次世界大戦が終わると、日本の景気は悪くなり、失業や賃金の切り下げに苦しめられた^①労働者はストライキなどを起こした。農村でも小作争議が起これ、^②農民らは団結して小作人の地位向上を目指した。また、普通選挙の実現を求める運動もさかんになり、^③1925年、選挙法が改正された。

(1) 下線部^①について、次の問いに答えなさい。

- ① 1920年に日本で初めて開かれた労働者による大規模な集会を何というか。
- ② 賃上げや労働時間の短縮など労働者が労働条件の向上などを求める社会運動を何というか。漢字4字で書きなさい。

(2) 1922年、社会運動の高まりの中で、天皇制の廃止や8時間労働制などを主張して、ひそかに結成された政党を何というか。

(3) 下線部^②で、小作人の地位の向上を目指して、1922年につくられた全国組織を何というか。

(4) 右の資料について、次の問いに答えなさい。

① 右の資料の宣言は、何という雑誌の発刊に際して書かれたものか。

② ①の雑誌の編集・発刊を中心になって進めた人物を、次のア～ウから選びなさい。

ア 樋口一葉 イ 谷崎潤一郎 ウ 平塚らいてう

③ 資料中の()にあてはまる語句を次のア～エから選びなさい。

ア 火 イ 星 ウ 太陽 エ 水

(5) **表現力** 下線部^③の法律で、選挙権はどのような人々にあたえられることになったか。年齢や性別の点から簡潔に書きなさい。

げんし
元始、女性は実に()であった。
真正の人であった。今、女性は月である。
他によって生き、他の光によってかがやく、病人のようなあお白い顔の月である。

③

(1)	①	
	②	
(2)		
(3)		
(4)	①	
	②	
	③	
(5)		

④ 次の文を読んで、あとの問いに答えなさい。

大正時代に入ると、人口が都市に集中し、^①新しい職業へ女性も社会進出してきた。さらに新聞・雑誌が大量に発行され、都市を中心に^②文化の大衆化が進んだ。このころ、文学の分野でも、新しい作品が生まれた。

(1) 下線部^①にあてはまる職業を、次のア～エから選びなさい。

ア 衆議院議員 イ 婦人警官 ウ バスの運転手 エ タイピスト

(2) 下線部^②で、このころの文化にあてはまらないものを、次のア～オから選びなさい。

- ア 学生の野球大会が始まり、甲子園球場で開催されるようになった。
- イ 大都市では公共の建物が鉄筋コンクリートになり、郊外に文化住宅が建設された。
- ウ 鉄道が敷設され、人力車や馬車が走るようになった。
- エ デパートや映画館ができて、新しい娯楽として発展していった。
- オ パンが広まり、カレーライスやコロッケなどの洋食も好まれるようになった。

(3) 下線部^②で、次の①・②にあてはまる人物を、下のア～エから選びなさい。

- ① 農村を訪ねて各地に残る伝承を記録し、民俗学を提唱した。
- ② 貧しい労働者の人々の立場から社会を表現し、『蟹工船』などの作品を残した。

ア 柳田国男 イ 芥川龍之介 ウ 小林多喜二 エ 夏目漱石

(4) 一冊一円の低価格な文学全集を何というか。漢字2字で書きなさい。

④

(1)	
(2)	
(3)	①
	②
(4)	