

13

大正デモクラシーの時代

学習1 大正デモクラシーと政党内閣の成立

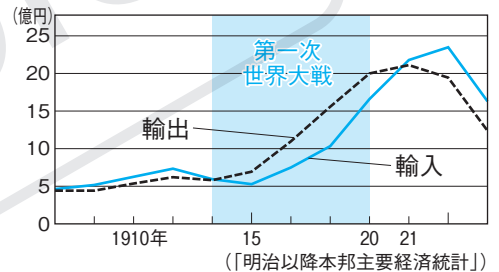
- 明治天皇が亡くなり大正天皇が即位した1912年(大正元年)、軍備の拡張をおさえようとしていた立憲政友会総裁の西園寺公望が、陸軍の反対でたおれ、陸軍や藩閥に支持された桂太郎内閣が成立しました。
- 立憲政友会の尾崎行雄や立憲国民党の犬養毅らは藩閥をたおし、憲法の精神に基づく政治を守ろうと、護憲運動を起こしました。
- 桂内閣は総辞職に追い込まれ、その後は、政党の力が次第に強くなっていきました。
- 政治学者の吉野作造が**民本主義**を唱え、政治に民衆の考えを反映することを主張しました。美濃部達吉は、天皇は国家の最高機関として、憲法により国を統治すべきと主張しました(天皇機関説)。
- 護憲運動や民主主義などの思想の広まり、政党政治や男子普通選挙の実現のなかで、日本の社会に民主主義が浸透していきました。この時代の風潮は、のちに**大正デモクラシー**とよばれました。
- 第一次世界大戦中、連合国から軍需品や船舶、中国へは綿糸・綿織物など、アメリカへは生糸の輸出が大幅に増え、日本経済は、かつてない好景気(**大戦景気**)になりました。
- 大戦景気によって、にわかに大金持ちになった「**成金**」が生まれ、三井や三菱、住友などの**財閥**はさらに力をつけました。
- ロシア革命が起こると、シベリア出兵を見越した米の買い占めなどが行われ、米の値段が急激に上がりました。
- 富山県の漁村の主婦が米の安売りを要求しました。このことが報道されると、全国の都市に騒動が広がりました。(米騒動)
- 米騒動で内閣がたおれると、立憲政友会の**原敬**が首相となり、内閣を組織しました。原内閣は、閣僚の大部分を衆議院の第一党である立憲政友会の党員が占める、初の本格的な**政党内閣**でした。原内閣は選挙権の条件を直接国税3円以上にしました。

学習2 社会運動の広がり

- 労働者は労働組合をつくり、賃上げや労働時間の短縮などを求めて**労働争議**を起こしました。1920年には日本で最初のメーデーが行われました。
- 農村では、小作人が地主に小作料の引き下げなどを求めて**小作争議**を起こしました。後に農民や小作人の権利を守る、日本農民組

時代	年	できごと	中国
大正時代	1912	桂太郎内閣が成立する	中 華 民 国
	1916	吉野作造が民本主義を唱える	
	1918	米騒動が起こる	
	1920	原敬の政党内閣が成立する 新婦人協会が設立 日本最初のメーデーが行われる	
	1921	日本労働総同盟が結成	
	1922	全国水平社が結成 日本共産党が結成 日本農民組合が結成	
	1923	関東大震災が起こる	
	1924	加藤高明内閣が成立する	
	1925	ラジオ放送が始まる 治安維持法が制定される 普通選挙法が制定される	

▼大正時代の貿易



▼米騒動

著作権者への配慮から、掲載を差し控えております。実際の教材には掲載されておりますのでご安心ください。

▼原敬

著作権者への配慮から、掲載を差し控えております。実際の教材には掲載されておりますのでご安心ください。

※華族出身ではない初めての首相で、「平民宰相」とよばれました。

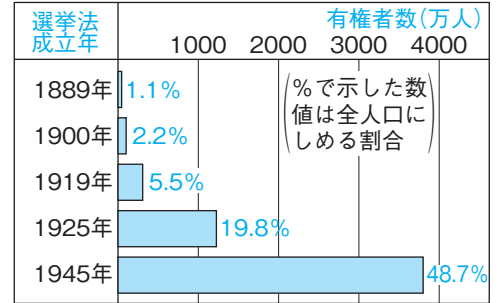
合もできました。

- 社会主義運動が高まり、1922年に日本共産党きょうさんとうが結成され、1926年には無産政党が活動を行うようになりました。
- 1920年、平塚ひらつからいてうや市川房枝(ちよう) いちかわふさえらが新婦人協会しん ふじんきょうかいを設立し、政治活動の自由と平等を求める運動を進めました。
- 「解放令」が出されたあとも、部落差別はなくなりませんでした。差別に苦しんでいた人々は、1922年に全国水平社ぜんこくすいへいしゃを結成し、自由と平等を求める運動を進めました。
- 1924年に、再び政党を無視した内閣が成立し、二度目の護憲運動が起きました。翌年には護憲派の加藤高明内閣かとうたかあきが誕生しました。
- 1925年、納税額にかかわらず、満25歳以上のすべての男性に衆議院議員の選挙権を与える普通選挙法ふつとんせんきゆうほうが成立しました。これによって有権者数が増加し、政治に国民の声がより反映される道が開かれましたが、女性には選挙権はあたえられませんでした。
- 1925年には、治安維持法ちあんいじほうが制定されました。この法律は、ロシア革命の影響で知識人などのあいだにも広がった社会主義の活動を取り締まることが目的でしたが、その後、改定によって刑罰けいばつが強化され、社会運動全般の取り締まりに利用されました。

学習3 文化・宗教・生活

- 大正時代には、工場労働者や役所・会社に勤めて給料をもらう給与生活者(サラリーマン)が増えたことで、都市の人口が急増しました。都市では、電気やガス、水道などが普及し、生活様式の洋風化が進みました。
- 都心と郊外を結ぶ電車が発達し、沿線には劇場や遊園地などが、ターミナルには、デパートや映画館などが建設されました。
- 1923年9月1日、大地震が関東地方をおそいました。東京・横浜などの人口密集地は壊滅状態となり、死者・行方不明者は10万人以上に達しました(関東大震災)。震災後は、地震に強い鉄筋コンクリート造りの建物が増えていきました。
- 新聞の発行部数も急速に増え、文庫本や1冊1円の文学全集(円本)が出版されました。ラジオ放送が始まるなど、各種メディアが発達するなか、映画や歌謡曲、野球などのスポーツが大衆の娯楽として定着していきました。
- 文学では、谷崎潤一郎たにざきじゆんいちろうや芥川龍之介あくたがわりゆうのすけ、白樺派の武者小路実篤むしかばは むしらのこうじ さねあつらの作品が人々に読まれました。また、労働者や農民の視点で社会問題を描く、小林多喜二こばやし たきじらのプロレタリア文学も生まれました。大衆文学として吉川英治や江戸川乱歩の作品も親しまれました。

▼有権者数の移り変わり



※普通選挙とは、一定の年齢に達したすべての国民に選挙権があたえられることです。

▼全国水平社の宣言

全国に散在する部落の人々よ、団結せよ。ここにわれわれが人間を尊敬することによって、みずからを解放しようとする運動を起こしたのは当然である。われわれは、心から人生の熱と光を求めるものである。水平社はこうして生まれた。人の世に熱あれ、人間に光あれ。

▼『青鞥』の宣言

元始、女性は実に太陽であった。真正の人であった。今、女性は月である。…

▼治安維持法(1925<大正14>年)

第一条 国体を変革し、または私有財産制度を否認することを目的として結社を組織し、または情を知ってこれに加入した者は、10年以下の懲役または禁錮に処する。

第二条 前条の目的をもって、その実行に関し協議をした者は、7年以下の懲役または禁錮に処する。

▼関東大震災

著作権者への配慮から、掲載を差し控えております。実際の教材には掲載されておりますのでご安心ください。

確認問題

●一問一答● 次の問いに答えなさい。

- (1) 官僚や軍人中心の政治に対して、憲法を守り、議会中心の政治を求める運動を何というか。 **立憲国民党の犬養毅らが中心となった。** (1)
- (2) 吉野作造がとなえた、普通選挙によって民意を政治に反映させる考えを何というか。 **美濃部達吉は天皇機関説をとなえた。** (2)
- (3) 第一次世界大戦が始まると、日本は景気がよくなった。戦争が始まることで発生する好景気を何というか。 (3)
- (4) (3)により、にわかに金持ちになった人々を何というか。 (4)
- (5) 大正時代におこった民主主義を求める風潮や運動を何というか。 (5)
- (6) シベリア出兵による米価の急上昇をきっかけに、富山県の漁村の主婦たちから始まり、各地に広がった全国的な騒動を何というか。 (6)
- (7) (6)の後、首相になり、内閣を組織した人物はだれか。 **閣僚の大部分を衆議院の第一党である立憲政友会の党員が占めた。** (7)
- (8) 議会で多数を占める政党の党員によって組織される内閣を何というか。 **初めて本格的な(8)ができたのは(7)のときである。** (8)
- (9) 労働者が団結して、労働条件の改善などを資本家に求めてストライキなどを起こすことを何というか。 (9)
- (10) 農村で、小作人が地主に対して、高い小作料の引き下げや耕作権を要求する争議を何というか。 (10)
- (11) 婦人の社会的・経済的な権利の獲得をめざして、市川房江、平塚らいてうらを中心に結成された婦人団体を何というか。 (11)
- (12) きびしい部落差別に苦しんだ人々が、人間としての平等を求めて結成した組織を何というか。 (12)
- (13) 第二次護憲運動後の1924年、護憲派の連立内閣がつくられたが、このときの内閣総理大臣はだれか。 (13)
- (14) 1925年に成立した、満25歳以上のすべての男子に選挙権をあたえる法律を何というか。 **女性には選挙権はなかった。** (14)
- (15) (14)と同時に成立し、社会主義運動をとりしめるために制定された法律を何というか。 **1928年、最高刑に死刑が導入された。** (15)
- (16) 1923年に発生し、東京・横浜などの地域を壊滅状態にした災害を何というか。 (16)
- (17) 第一次世界大戦のころから、都市を中心に大衆の文化が広まったが、当時、活動写真とよばれ、多くの人に好まれた娯楽は何か。 (17)
- (18) 1925年に始まり、またたく間に全国に普及したメディアは何か。 **新聞の発行部数も増え、1冊1円の円本も出版された。** (18)
- (19) 労働者や農民の貧困をえがいて社会に訴えた文学を何というか。 **小林多喜二の『蟹工船』などが知られる。** (19)
- (20) 『羅生門』、『くもの糸』、『鼻』などの知性的な短編で、人々に親しまれた文学者はだれか。 (20)

学習1

学習2

学習3

基本問題

1 右の資料を読んで、次の問いに答えなさい。

- (1) 資料Ⅰの法律を何というか。
- (2) 資料Ⅰと同時に実現された、選挙に関する新しい法律を何というか。
- (3) 資料Ⅰが取りしまった運動を、次のア～エから2つ選びなさい。
 ア 天皇中心の国のあり方を変える運動。
 イ 憲政擁護を主張する運動。
 ウ 軍隊を強化する運動。
 エ 私有財産制を否定する運動。
- (4) 資料Ⅱ中の()にあてはまる語句を、次のア～ウから選びなさい。
 ア 労働者 イ 農民 ウ 部落
- (5) 資料Ⅱを宣言した組織を何というか。
- (6) (5)がめざしたことを、次のア～エから選びなさい。
 ア 部落差別からの解放を求める。
 イ 女性に対する差別をなくす。
 ウ 小作料の引き下げを求める。
 エ 労働者の権利を主張する。

資料Ⅰ

第一条 国体を変革し、または私有財産制度を否認することを目的として結社を組織し、または情を知ってこれに加入した者は、10年以下の懲役または禁錮に処する。

第二条 前条の目的をもって、その実行に関し協議をした者は、7年以下の懲役または禁錮に処する。

資料Ⅱ

全国に散在する()の人々よ、團結せよ。ここにわれわれが人間を尊敬することによって、自らを解放しようとする運動を起こしたのは当然である。われわれは、心から人生の熱と光を求めるものである。

水平社はこうして生まれた。

人の世に熱あれ、人間に光あれ。

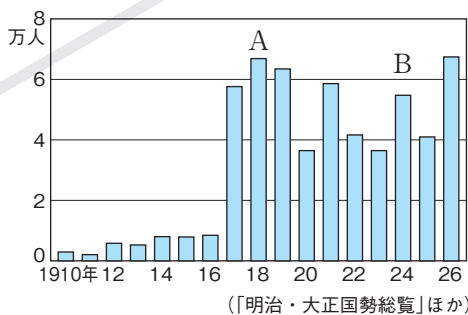
1

(1)
(2)
(3)
(4)
(5)
(6)

2 右のグラフを見て、次の問いに答えなさい。

- (1) 労働争議の増加とともに、農村では小作料の減免を要求する運動が活発になった。この運動を何というか。
- (2) グラフ中のAの時期に、あるできごとのために内閣がたおれることになった。あるできごととは何か。
- (3) (2)のあと、本格的な政党内閣を組織した人物はだれか。
- (4) グラフのBのときに起きた運動を何というか。

労働争議に加わった労働者の数



2

(1)
(2)
(3)
(4)

3 右の資料を見て、次の問いに答えなさい。

- (1) グラフの①、②のときの有権者の資格を、次のア～ウから選びなさい。
 ア 満20歳以上の男子
 イ 満25歳以上の男子
 ウ 直接国税15円以上を納める満25歳以上の男子
- (2) グラフの②のときの内閣総理大臣はだれか。

選挙法成立年	1000	2000	3000	4000	有権者数 (万人)
① 1889年	1.1%				(%で示した数値は全人口にしめる割合)
1900年	2.2%				
1919年	5.5%				
② 1925年		19.8%			
1945年			48.7%		

3

(1)	①
	②
(2)	

練習問題

1 右の年表を見て、あとの問いに答えなさい。

□(1) **表現力** 下線部①はどのような内閣であったか。簡潔に書きなさい。

□(2) 下線部②の前の内閣総理大臣はだれか。次のア～エから選びなさい。

ア 大隈重信 イ 板垣退助
ウ 伊藤博文 エ 西園寺公望

□(3) (2)の所属していた政党を、次のア～エから選びなさい。

ア 自由党 イ 立憲改進黨
ウ 立憲政友会 エ 憲政党

(4) 次の文を参考し、年表中の①～③にあてはまる人名を書きなさい。

□① 政治に民衆の考えを反映すべきだととなえた政治学者。

□② 米騒動のあと、内閣を組織した立憲政友会総裁。

□③ 1924年、政党を無視した内閣のあと誕生した、憲政会総裁。

□(5) 下線部④を支持し、「天皇は国家の最高機関であり、憲法に従って統治を行うものとする」という学説を主張した法学者はだれか。

□(6) Aに共通してあてはまる語句を書きなさい。

□(7) 下線部⑤はどういう首相が中心の内閣か。次のア～エから選びなさい。

ア 貴族院の多数派から選ばれた人 イ 天皇が選んだ人
ウ 衆議院の多数派から選ばれた人 エ 軍人

□(8) **表現力** 下線部⑥はどのような法律か。簡潔に書きなさい。

□(9) この時代の民主主義を求める動きや風潮を何というか。

年	できごと
1912	第三次桂太郎内閣成立 ① A 運動が起こる
1914	第一次世界大戦が起こる
1916	(①)が ② 民本主義をとる
1917	ロシア革命
1918	米騒動が起こる (②)内閣が成立 (政党内閣)
1924	再び A 運動が起こる (③)内閣成立 (政党内閣)
1925	治安維持法の制定 ④ 普通選挙法の成立

1

(1)		
(2)		
(3)		
(4)	①	
	②	
	③	
(5)		
(6)		
(7)		
(8)		
(9)		

2 右の絵を見て、次の問いに答えなさい。

□(1) 1918年に、漁村の主婦らの動きが全国的に広がり、右の絵のような騒動が各地で起こった。これを何というか。

□(2) (1)が最初に起こった県としてあてはまるものを、次のア～エから選びなさい。

ア 鹿児島県 イ 神奈川県
ウ 愛知県 エ 富山県

(3) (1)が起こった原因として、次の㉠・㉡の文中の①・②にあてはまる語句を書きなさい。

□㉠ 1914年に起きた(①)により、工業製品の輸出が増え、好景気となったため、物価が上がった。

□㉡ ロシア革命が起こり、(②)出兵を見こした商人が米を買い占めたため、米の価格が前年の2倍にまで上がった。

著作権者への配慮から、掲載を差し控えております。実際の教材には掲載されておりますのでご安心ください。

2

(1)		
(2)		
(3)	①	
	②	出兵

③ 次の文を読んで、あとの問いに答えなさい。

第一次世界大戦が終わると、日本の景気は悪くなり、失業や賃金の切り下げに苦しめられた^①労働者はストライキなどを起こした。農村でも小作争議が起これ、^②農民らは団結して小作人の地位向上を目ざした。また、普通選挙の実現を求める運動もさかんになり、^③1925年、選挙法が改正された。

(1) 下線部^①について、次の問いに答えなさい。

- ① 1920年に日本で初めて開かれた労働者による大規模な集会を何というか。
- ② 賃上げや労働時間の短縮など労働者が労働条件の向上などを求める社会運動を何というか。漢字4字で書きなさい。

② 1922年、社会運動の高まりの中で、天皇制の廃止や8時間労働制などを主張して、ひそかに結成された政党を何というか。

③ 下線部^②で、小作人の地位の向上を目ざして、1922年につくられた全国組織を何というか。

④ 下線部^③で、選挙法が改正されても女性の選挙権は認められなかった。そこで、女性の政治集会への参加や、地位向上などを目ざして、平塚らいてう^(ちよう)らがつくった組織を何というか。

⑤ (4)で、平塚らいてうとともに運動を起こした人物にあてはまるものを、次のア～ウから選びなさい。

ア 樋口一葉 イ 谷崎潤一郎 ウ 市川房枝

⑥ **表現力** 下線部^④と同時に制定された治安維持法とはどのようなものか。簡潔に書きなさい。

⑦ 下線部^④の法律ができたときの首相はだれか。

③

(1)	①	
	②	
(2)		
(3)		
(4)		協会
(5)		
(6)		
(7)		

④ 次の文を読んで、あとの問いに答えなさい。

大正時代に入ると、人口が都市に集中し、新しい職業へ女性も社会進出してきた。さらに新聞・雑誌が大量に発行され、^①都市を中心に文化の大衆化が進んだ。このころ、^②文学の分野でも、新しい作品が生まれた。

① 下線部^①で、このころの文化にあてはまらないものを、次のア～オから選びなさい。

- ア 学生の野球大会が始まり、甲子園球場で開催されるようになった。
- イ 大都市では公共の建物が鉄筋コンクリートになり、郊外に文化住宅が建設された。
- ウ 鉄道が敷設され、人力車や馬車が走るようになった。
- エ デパートや映画館ができて、新しい娯楽として発展していった。
- オ パンが広まり、カレーライスやコロッケなどの洋食も好まれるようになった。

(2) 下線部^②で、次の①・②にあてはまる人物を、下のア～エから選びなさい。

- ① 『鼻』、『羅生門』などの知的な作品を残した。
- ② 貧しい労働者の人々の立場から社会を表現し、『蟹工船』などの作品を残した。

ア 柳田国男 イ 芥川龍之介 ウ 小林多喜二 エ 夏目漱石

③ 労働者や貧しい農民などが、運動に立ち上がる姿をえがいた、(2)の②のような文学を何というか。

④ 下線部^②で、富裕者の独占物であった文学書が大衆化していった理由を述べた次の文の()にあてはまる語句を書きなさい。

1926年に1冊1円の()が、翌年には文庫本が刊行されたため。

④

(1)		
(2)	①	
	②	
(3)		文学
(4)		