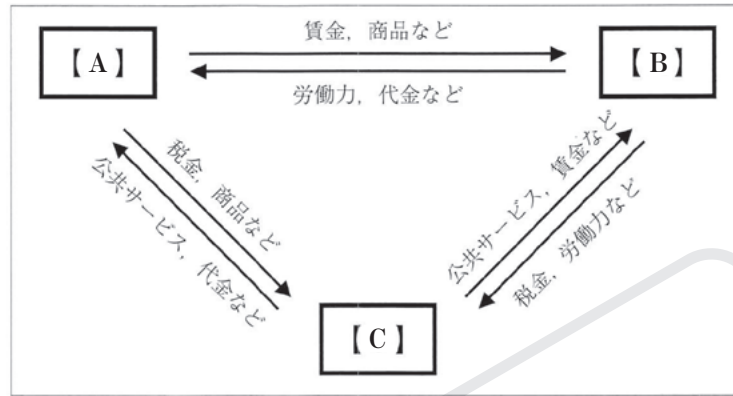


92 経済循環・税

〈高知〉

次の資料は、我が国における家計、企業、政府の経済活動について表したものであり、資料中の→は、カネ、モノ、サービスの流れを示している。資料を見て、下の(1)、(2)の問いに答えなさい。

資料



- (1) 資料中の【A】～【C】は、家計、企業、政府のいずれかを示している。【A】・【B】は何か、それぞれ書きなさい。
- (2) 資料中に「税金」とあるが、このうち、「関税」について述べた文として正しいものを、次のア～エから一つ選び、その記号を書きなさい。

- ア 企業の利潤にかかる税金
- イ 賃金や給与にかかる税金
- ウ 土地や建物、工場の機械等の資産にかかる税金
- エ 海外からの輸出品にかかる税金

(1)	A	B	(2)
-----	---	---	-----


93 財政

〈山口〉

日本の財政のしくみについて、次のA～Cは、1980年度、2000年度、2023年度のいずれかの、日本の一般会計予算における歳入と歳出の大きな内訳の割合を示したものである。A～Cを、年代の古い順に並べ、記号で答えなさい。

	A	B	C
歳入	所得税・法人税 31.2% その他の租税・印紙収入 20.4 消費税 31.1 その他 9.1 公債金 8.1	33.7 11.6 4.4 38.4	44.2 17.8 33.5 4.5
歳出	社会保障関係費 32.3% 地方交付税交付金など 22.1 国債費 31.3 その他 14.3	19.7 25.8 36.9 17.6	19.3 17.3 50.9 12.5

(注) 歳入および歳出の内訳の割合は、小数第二位を四捨五入してあるため、合計が100.0%にならない場合がある。(財務省資料により作成)



94 財政

〈福岡〉

経済政策について、表は、金融政策と財政政策の一部をまとめたものである。次のア～エは、表中の①～④のいずれかにあてはまる。②、③にあてはまるものを、ア～エからそれぞれ一つ選び、記号を書きなさい。

- ア 減税政策を行う。
- イ 国債などを売る政策を行う。
- ウ 国債などを買う政策を行う。
- エ 公共投資を減らす政策を行う。

〈表〉

状況 \ 政策	金融政策	財政政策
好景気(好況)のとき	①	②
不景気(不況)のとき	③	④

②		③	
---	--	---	--

著作権者への配慮から、掲載を差し控えております。
 実際の教材には掲載されておりますのでご安心ください。

96 社会保障

〈奈良〉

絵里さんは、安心して暮らせる社会を実現するための制度として社会保障制度があると考え、日本の社会保障制度について、調べることにした。各問いに答えなさい。

- ①(1) 日本の社会保障制度は、日本国憲法に基づいて整備されている。日本国憲法第 25 条では、社会権の中で基本となる「健康で文化的な最低限度の生活を営む権利」を保障している。この権利を何というか。その名称を書きなさい。
- ①(2) 感染症対策や廃棄物処理などによって、人々の健康や安全な生活を守る役割を果たしている日本の社会保障制度の基本的な柱のひとつを、次のア～エから一つ選び、その記号を書きなさい。

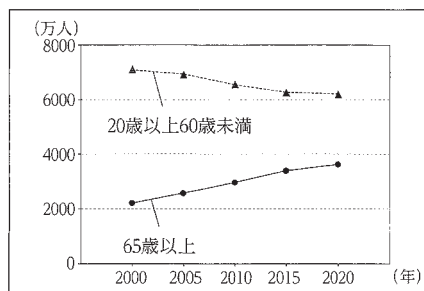
ア 社会保険 イ 社会福祉 ウ 公衆衛生 エ 公的扶助

- ②(3) 次の□内は、絵里さんが、公的年金制度のひとつである国民年金の仕組みについてまとめたメモの一部である。資料は、2000 年から 2020 年における日本の 20 歳以上 60 歳未満の人口と 65 歳以上の人口の推移を示したものである。メモに示す仕組みで国民年金が運用されることにより、課題となっていることを、メモと資料を参考にして、「受給者」、「負担者」の語を用いて簡潔に書きなさい。

【国民年金の仕組み】

- ・日本に住む 20 歳以上 60 歳未満の人は、国民年金への加入が法律で義務づけられている。
- ・納めた保険料はそのまま年金を必要とする人たちに給付される。
- ・高齢者の受け取る老齢年金の支給は、原則として 65 歳からである。

【資料】



(総務省 Web サイトより作成)

(1)	
-----	--

(2)	
-----	--

(3)	
-----	--

97 社会保障

〈長野〉

要さんは、高齢化が進むことは、社会保障制度に大きな影響をおよぼすのではないかと考えた。各問いに答えなさい。

(1) 社会保障の1つである社会保険は、**自助**、**公助**、**共助**のどれにあたるか、最も適切なものを一つ選び、書きなさい。

② 要さんは、現在の日本の社会保障のあり方を図の●に位置づけたとき、今後

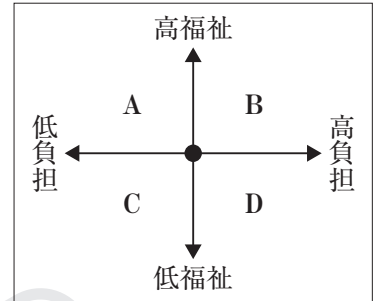
図のBの範囲に位置づけることがよいと考えた。そのように考えた理由として最も適切なものを、次のア～エから一つ選び、記号を書きなさい。

ア 政府による社会保障を充実させつつも、国民の負担は軽くなることから。

イ 政府による社会保障を充実させていくためには、国民の負担が重くなることはやむを得ないから。

ウ 国民の負担を軽くするためには、社会保障をしほりこんでいく必要があるから。

エ 国民の負担が重くなることはやむを得ないが、社会保障をしほりこんでいく必要があるから。



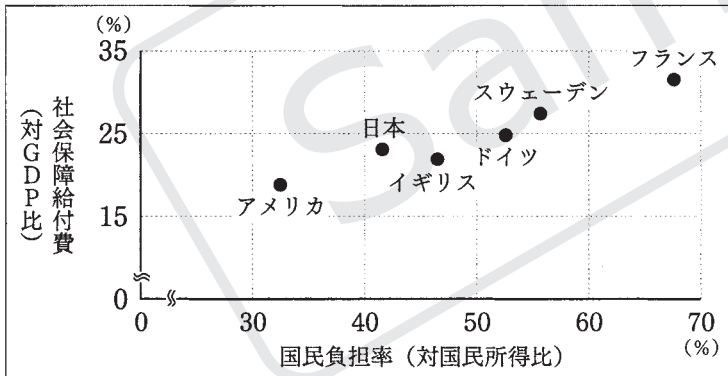
(1)		(2)	
-----	--	-----	--

98 社会保障

〈岡山〉

あすかさんは、日本の人口における課題について考えるために、日本の社会保障に着目し、収集した資料について、次のようにまとめました。(1)、(2)に答えなさい。

資料 日本を含む6か国の国民負担率と社会保障給付費



資料では、フランスの社会保障は、国民の **X** になっていて、アメリカの社会保障は、国民の **Y** になっています。現在の日本の人口構成割合では、国民負担率と社会保障給付費のバランスが課題となります。日本が、資料の状態から国民負担率を変えず、社会保障給付費のみを増加させると、将来の世代へ負担の先送りとなる **Z** の発行が増えていくことも考えられます。

(注) 社会保障給付費の統計年次は2013年。国民負担率の統計は、日本は2013年度、その他は2013年。国民負担率は、国民の税負担率と社会保障負担率を合わせたもの。社会保障給付費は、社会保障制度によって国や地方公共団体などから国民に給付される費用。

(独立行政法人 労働政策研究・研修機構「データブック国際労働比較」から作成)

① **X**、**Y** に当てはまることばの組み合わせとして最も適当なのは、ア～エのうちではどれですか。一つ答えなさい。

ア **X** : 負担は大きく、給付も多く **Y** : 負担は大きく、給付も多く

イ **X** : 負担は小さく、給付も少なく **Y** : 負担は大きく、給付も多く

ウ **X** : 負担は大きく、給付も多く **Y** : 負担は小さく、給付も少なく

エ **X** : 負担は小さく、給付も少なく **Y** : 負担は小さく、給付も少なく

② **Z** に当てはまる最も適当なことばを書きなさい。

(1)		(2)	
-----	--	-----	--