

4 日本の地方区分と都道府県(2)

1 西日本の都道府県

(1) 近畿地方(面積33125km²・人口2209万人)

近畿地方は、次の2府5県によって成り立っています。京都府や奈良県を中心とする地いきは、かつて「畿内(都がおかれている場所)」とよばれており、これが近畿地方の名前の由来となっています。

- ① 三重県(人口174万人)……………津市
- ② 滋賀県(人口141万人)……………大津市
- ③ 京都府(人口255万人)……………京都市
- ④ 大阪府(人口878万人)……………大阪市
- ⑤ 兵庫県(人口540万人)……………神戸市
- ⑥ 奈良県(人口131万人)……………奈良市
- ⑦ 和歌山県(人口90万人)……………和歌山市

※大阪府は日本で3番目に人口が多くなっています。

▼近畿地方の府県



(2) 中国地方(面積31922km²・人口713万人)

中国地方は、次の5県によって成り立っています。

- ① 鳥取県(人口54万人)……………鳥取市
- ② 島根県(人口66万人)……………松江市
- ③ 岡山県(人口186万人)……………岡山市
- ④ 広島県(人口276万人)……………広島市
- ⑤ 山口県(人口131万人)……………山口市

▼中国・四国地方の県



(3) 四国地方(面積18803km²・人口362万人)

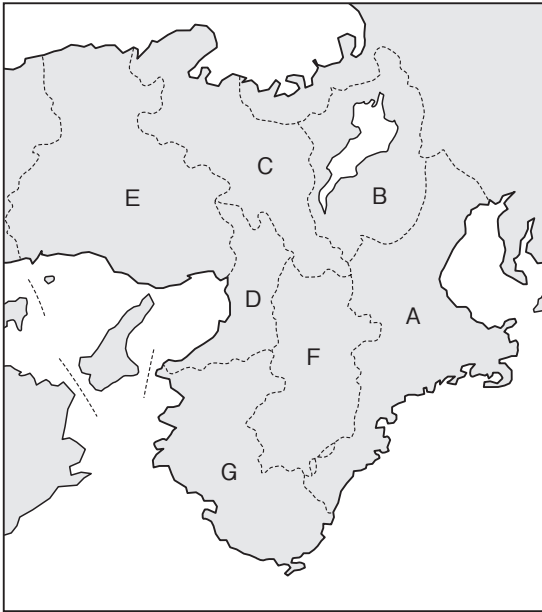
四国地方は、次の4県によって成り立っています。

- ① 徳島県(人口70万人)……………徳島市
- ② 香川県(人口93万人)……………高松市
- ③ 愛媛県(人口131万人)……………松山市
- ④ 高知県(人口68万人)……………高知市

※中国地方の日本海に面した地いきは山陰地方、瀬戸内海に面した地いきは山陽地方ともよばれています。
 ※四国地方の「四国」とは、かつてこの地いきに4つの国(阿波(徳島県)・讃岐(香川県)・伊予(愛媛県)・土佐(高知県))があったことがその名の由来となっています。

基本問題

1 近畿地方 次の地図を見て、(1)・(2)の問いに答えなさい。



□(1) 地図中のA～Gの府県名を、それぞれ漢字で答えなさい。

A	<input type="text"/>	B	<input type="text"/>
C	<input type="text"/>	D	<input type="text"/>
E	<input type="text"/>	F	<input type="text"/>
G	<input type="text"/>		

□(2) 地図中のA～Gの府県のうち、最も人口が多いものを選びなさい。

2 中国・四国地方 次の(1)～(3)の問いに答えなさい。

□(1) 地図中のA～Iの県名を、それぞれ漢字で答えなさい。



A	<input type="text"/>	B	<input type="text"/>
C	<input type="text"/>	D	<input type="text"/>
E	<input type="text"/>	F	<input type="text"/>
G	<input type="text"/>	H	<input type="text"/>
I	<input type="text"/>		

□(2) 中国地方の日本海側の地いきは()地方ともよばれています。
()にあてはまることばを答えなさい。

 地方

□(3) 中国地方の瀬戸内海側の地いきは()地方ともよばれています。
()にあてはまることばを答えなさい。

 地方

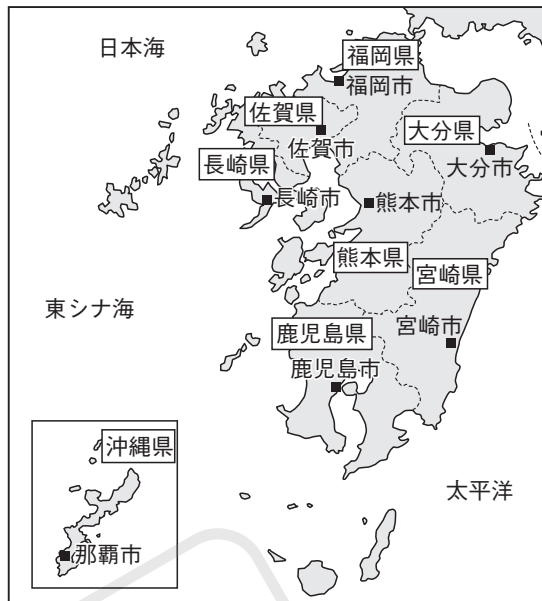
(4) 九州(・沖繩)地方(面積44512km²・人口1411万人)

九州(・沖繩)地方は、九州島にある7県と、沖繩県によって成り立っています。

- ① 福岡県(人口512万人)……福岡市
- ② 佐賀県(人口80万人)……佐賀市
- ③ 長崎県(人口128万人)……長崎市
- ④ 熊本県(人口172万人)……熊本市
- ⑤ 大分県(人口111万人)……大分市
- ⑥ 宮崎県(人口105万人)……宮崎市
- ⑦ 鹿児島県(人口156万人)……鹿児島市
- ⑧ 沖繩県(人口147万人)……那覇市

※九州地方の「九州」とは、かつて九州島に9つの国(筑前・筑後・肥前・肥後・豊前・豊後・日向・薩摩・大隅)があったことがその名の由来となっています。

▼九州地方の県



2 地形と地方区分・都道府県

(1) 地方や都道府県のさかいとなる地形

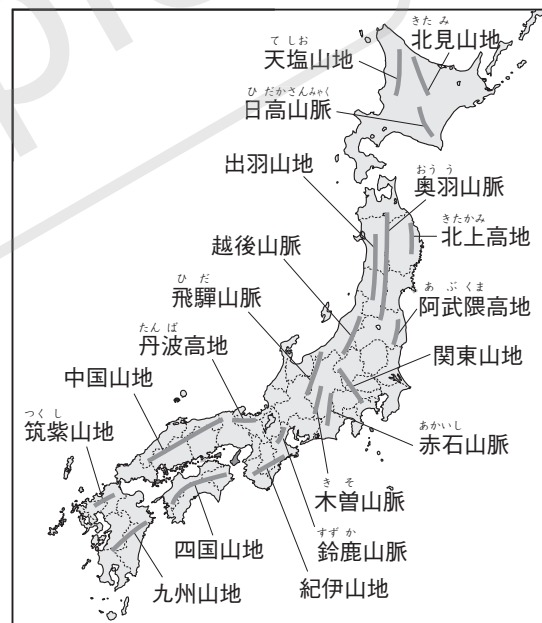
地方や都道府県は、山地・山脈や河川・海峡などの地形がさかいとなることが多くなっています。特に日本は山地の割合が国土のおよそ4分の3をしめるほど多く、山地・山脈は地方や都道府県のさかいだけでなく、気候のさかいにもなっています。

(2) 山地・山脈の名前

日本にある山地・山脈の名前の多くは、昔の国名にちなむもの(出羽山地・越後山脈・紀伊山地)や、地方の名前にちなむもの(関東・中国・四国・九州山地)が多くなっています。

※出羽は現在の秋田県・山形県、越後は現在の新潟県、紀伊は現在の和歌山県の昔の国名です。

▼日本のおもな山地・山脈



発展学習

(1) 都道府県の面積

【大きい順】北海道・岩手県・福島県・長野県・新潟県

【小さい順】香川県・大阪府・東京都・沖繩県・神奈川県

(2) 都道府県の人口

【多い順】東京都・神奈川県・大阪府・愛知県・埼玉県

【少ない順】鳥取県・島根県・高知県・徳島県・福井県

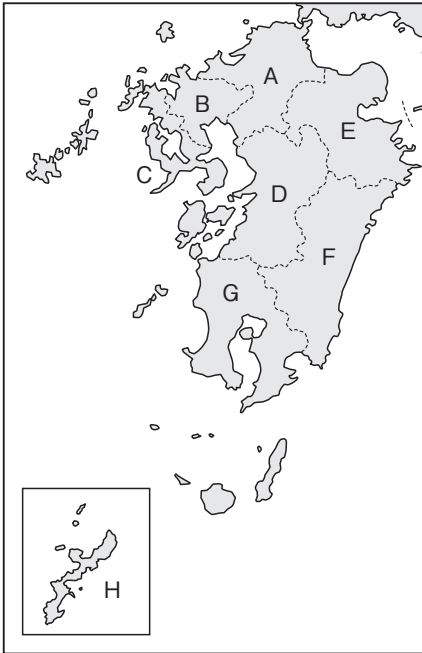
●県名と漢字(1)●

・「山」のつく県……

山形県・山梨県・山口県・
富山県・和歌山県・岡山県

基本問題

3 九州(・沖縄)地方 次の地図を見て、(1)・(2)の問いに答えなさい。

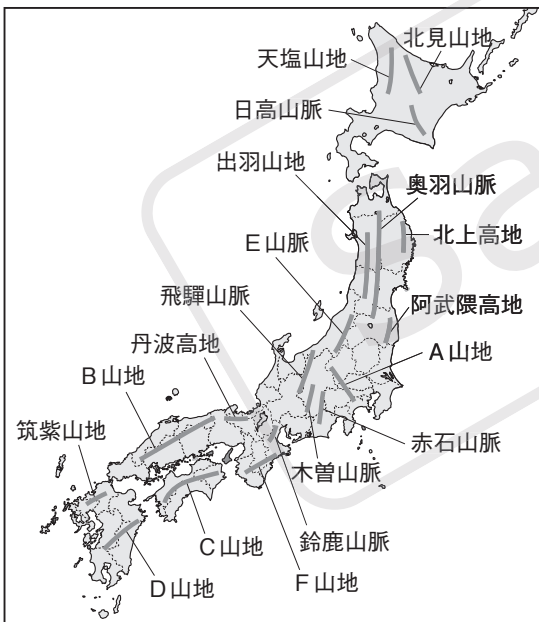


□(1) 地図中のA～Hの県名を、それぞれ漢字で答えなさい。

A	<input type="text"/>	B	<input type="text"/>
C	<input type="text"/>	D	<input type="text"/>
E	<input type="text"/>	F	<input type="text"/>
G	<input type="text"/>	H	<input type="text"/>

□(2) 地図中のA～Hのうち、最も人口が多い県を1つ選びなさい。

□**4 地形と地方区分・都道府県** 次の地図を見て、問いに答えなさい。



左の地図中のA～Dの山地の名前はそれぞれの山地のある地方に、Eの山脈の名前は新潟県の昔の国名に、Fの山地の名前は和歌山県の昔の国名に由来します。それぞれの山地・山脈の名前を、次のア～カから1つずつ選びなさい。

- ア 越後 イ 九州 ウ 関東
エ 四国 オ 紀伊 カ 中国

A	<input type="text"/>	B	<input type="text"/>
C	<input type="text"/>	D	<input type="text"/>
E	<input type="text"/>	F	<input type="text"/>

- (3) 海に面していない県(内陸県)
とちぎ 栃木県・ぐんま 群馬県・やまなし 山梨県・ながの 長野県
ぎふ 岐阜県・しが 滋賀県・なら 奈良県

- (4) 県庁所在地よりも人口の多い都市がある県
ふくしま 福島県・ぐんま 群馬県・しずおか 静岡県・たかさき 三重県・やまぐち 山口県

※それぞれ、郡山市(福島県)、高崎市(群馬県)、浜松市(静岡県)、四日市市(三重県)、下関市(山口県)が県庁所在地よりも人口が多い。

●県名と漢字(2)●

- ・動物……群馬県・鳥取県・
 熊本県・鹿児島県
 ・漢数字…千葉県・三重県

練習問題

1 ^{きんぎ}近畿地方 近畿地方について、右の地図を見て、次の問いに答えなさい。

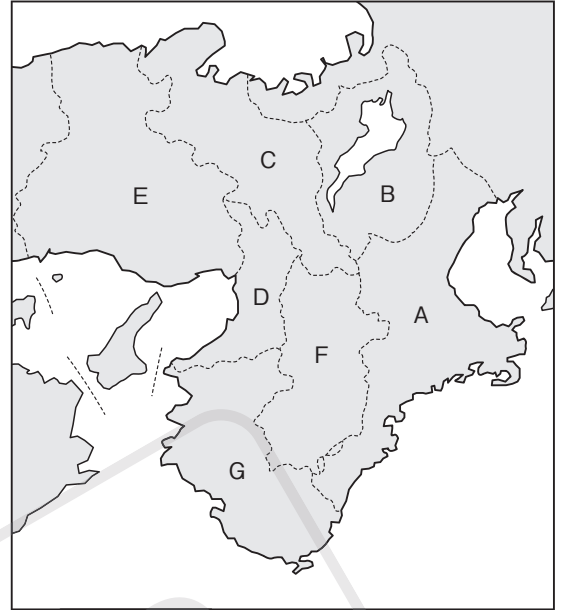
□(1) 近畿地方の「近畿」の名前は、「都がおかれている場所」を意味することばに由来しています。このことばを答えなさい。

□(2) 地図中のA～Gのうち、2つは「県」ではなく「府」です。この2つの「府」を選びなさい。

□(3) 地図中のA・B・Eの府県庁所在地の都市名を、それぞれ答えなさい。

A B

E



⊗□(4) 地図中のA～Gのうち、人口が最も多い府県は、A～Gのうちで面積が最も小さい府県でもあります。この府県を1つ選びなさい。

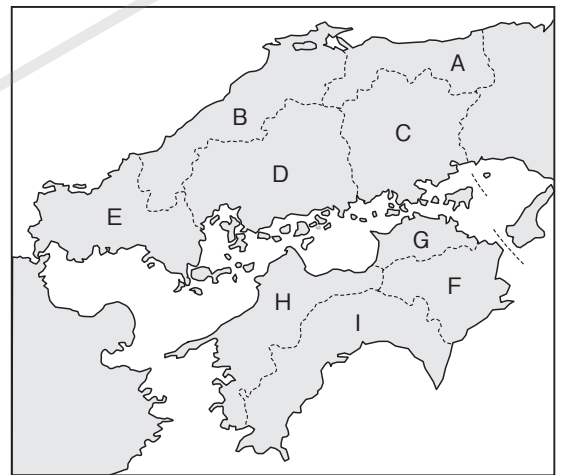
2 ^{ちゅうごく}中国・^{しこく}四国地方 中国・四国地方について、右の地図を見て、次の問いに答えなさい。

□(1) 中国地方と四国地方の間には、海が広がっており、この海に面した中国地方の地いきは、^{さんよう}山陽地方ともよばれています。この海の名前を答えなさい。

□(2) 地図中のB・G・Hの県庁所在地の都市名を、それぞれ答えなさい。

B G

H



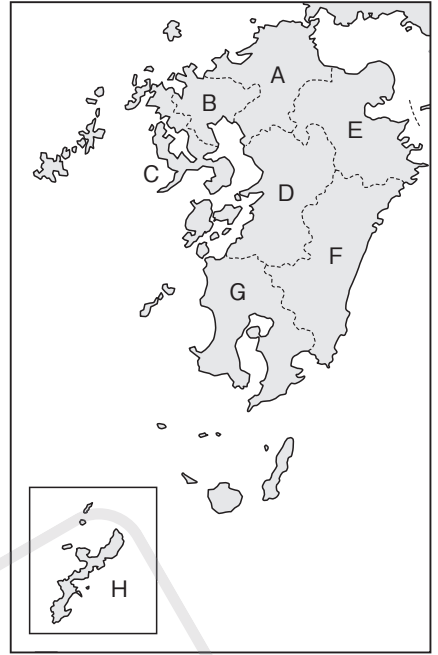
⊗□(3) 地図中のA～Iのうち、最も面積が小さいものを1つ選びなさい。

⊗□(4) 地図中のA～Iの中には、全国の都道府県のうち、特に人口の少ない4つの県があります。これらの県を選び、人口の少ない順に答えなさい。

㊸ 九州地方 九州地方について、右の地図を見て、次の問いに答えなさい。

□(1) 九州地方の「九州」の名前は、九州島にかつて9つの国があったことに由来します。この9つの国としてまちがっているものを、次のア～コから1つ選びなさい。

- | | | | |
|---------------------------|---------------------------|--------------------------|---------------------------|
| ア <small>ちくぜん</small> 筑前国 | イ <small>ちくご</small> 筑後国 | ウ <small>ぶぜん</small> 豊前国 | エ <small>ぶんご</small> 豊後国 |
| オ <small>ひぜん</small> 肥前国 | カ <small>ひご</small> 肥後国 | キ <small>えちご</small> 越後国 | ク <small>ひゅうが</small> 日向国 |
| ケ <small>さつま</small> 薩摩国 | コ <small>おおすみ</small> 大隅国 | | |



□(2) 九州地方と同じように、その名前がかつてあった国の数に由来する地方の名前を、漢字で答えなさい。

□(3) (2)で答えた地方にかつてあった国としてまちがっているものを、次のア～オから1つ選びなさい。

- | | | | | |
|-------------------------|-------------------------|-------------------------|--------------------------|-------------------------|
| ア <small>てわ</small> 出羽国 | イ <small>いよ</small> 伊予国 | ウ <small>あわ</small> 阿波国 | エ <small>さぬき</small> 讃岐国 | オ <small>とさ</small> 土佐国 |
|-------------------------|-------------------------|-------------------------|--------------------------|-------------------------|

□(4) 地図中のHの県庁所在地の都市名を答えなさい。

㊹ 地形と地方区分・都道府県 日本の山地や都道府県名について、次の問いに答えなさい。

□(1) 日本は山地の割合が国土のおよそ()の)をしめるため、山地・山脈が都道府県のさかいとなるものが多くなっています。()にあてはまる数字を答えなさい。

□(2) 鳥取県・島根県などの山陰地方と、岡山県・広島県などの山陽地方は、ある山地が地方のさかいとなっています。この山地の名前を答えなさい。

㊻□(3) 日本は山地が多いため、「山」という漢字が使われる都道府県が多くなっています。このような都道府県は全国にいくつありますか。

㊼□(4) (3)について、「山」という漢字が使われる都道府県の中には、都道府県庁所在地の都市よりも人口が多い都市があるものが1つあります。この都道府県の名前を漢字で答えなさい。

㊽□(5) (3)について、「山」という漢字が使われる都道府県の中には、海に面していないもの(内陸にあるもの)が1つあります。この都道府県の名前を漢字で答えなさい。

5 都道府県 次のA～Hは日本にある県をしめしたもので、各地図の■は県庁所在地をしめています。これを見て、あとの問いに答えなさい(県名は漢字で答えなさい)。

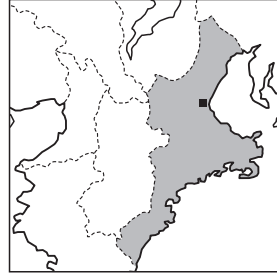
A(東北地方)



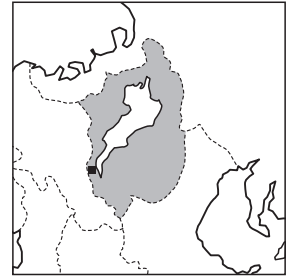
B(関東地方)



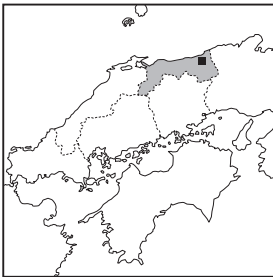
C(近畿地方)



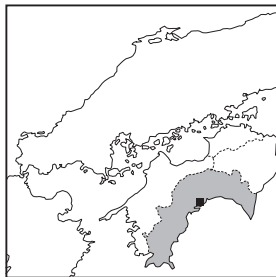
D(近畿地方)



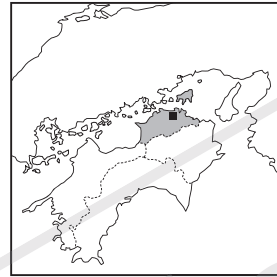
E(中国地方)



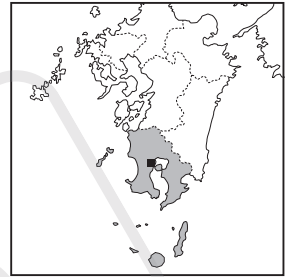
F(四国地方)



G(四国地方)



H(九州地方)



(※縮尺は一定ではありません。一部の島を省略しています。)

⑤□(1) Aは日本で2番目に面積が大きい県です。この県の名前を答えなさい。 県

⑤□(2) B・Cは県名に漢数字が入っています。それぞれの県の名前を答えなさい。
B 県 C 県

⑤□(3) Dは海に面していない内陸県です。この県の名前を答えなさい。 県

⑤□(4) (3)について、海に面していない内陸県は、Dの県もふくめて全国にいくつありますか。 つ

⑤□(5) E・Hは県名に動物の名前をあらわす漢字が入っています。それぞれの県の名前を答えなさい。
E 県 H 県

⑤□(6) Fは日本で3番目に人口が少ない県です。この県の名前を答えなさい。 県

⑤□(7) Gは日本で最も面積が小さい県です。この県の名前を答えなさい。 県

□(8) A～Hのうち、県の名前と県庁所在地の都市名がことなるものはいくつありますか。 つ

学 習 の ま と め

◆ 次の(1)~(16)の()にあてはまることばを答えなさい((2)・(3)・(7)~(11)・(13)は漢字で答えなさい)。

西日本の都道府県

- (1) 近畿地方は、2つの()と、5つの県によって成り立っています。 (1) _____
- (2) 近畿地方の府県で最も人口が多いのは、()です。 (2) _____
- (3) 近畿地方の府県で最も面積が小さいのは、()です。 (3) _____
- (4) 近畿地方の内陸県のうち、県名と県庁所在地の都市名がことなる県の県庁所在地は()市です。 (4) _____ 市
- (5) 中国地方の日本海側の地いきは、()地方ともよばれています。 (5) _____ 地方
- (6) 中国地方の瀬戸内海側の地いきは、()地方ともよばれています。 (6) _____ 地方
- (7) 中国地方の県で最も人口が多いのは、()です。 (7) _____
- (8) 四国地方の県で最も人口が多いのは、()です。 (8) _____
- ⊗□(9) 四国地方の県で最も面積が小さいのは、()です。 (9) _____
- (10) 九州地方の県で最も人口が多いのは、()です。 (10) _____
- ⊗□(11) 九州地方の県で最も面積が小さいのは、()です。 (11) _____
- (12) 九州地方の県で県名と県庁所在地の都市名がことなるのは1つだけあり、その県庁所在地は()市です。 (12) _____ 市

地形と地方区分・都道府県

- (13) 中部地方と()地方の間には、()山地があります。 (13) _____
(※()には共通のことばがあてはまります。)
- (14) 「山陰地方」と「山陽地方」のさかいには、()山地があります。 (14) _____ 山地
- (15) 東北地方にある()山地の名前は、秋田県・山形県の昔の国名がその名の由来となっています。 (15) _____ 山地
- (16) 近畿地方にある()山地の名前は、和歌山県の昔の国名がその名の由来となっています。 (16) _____ 山地